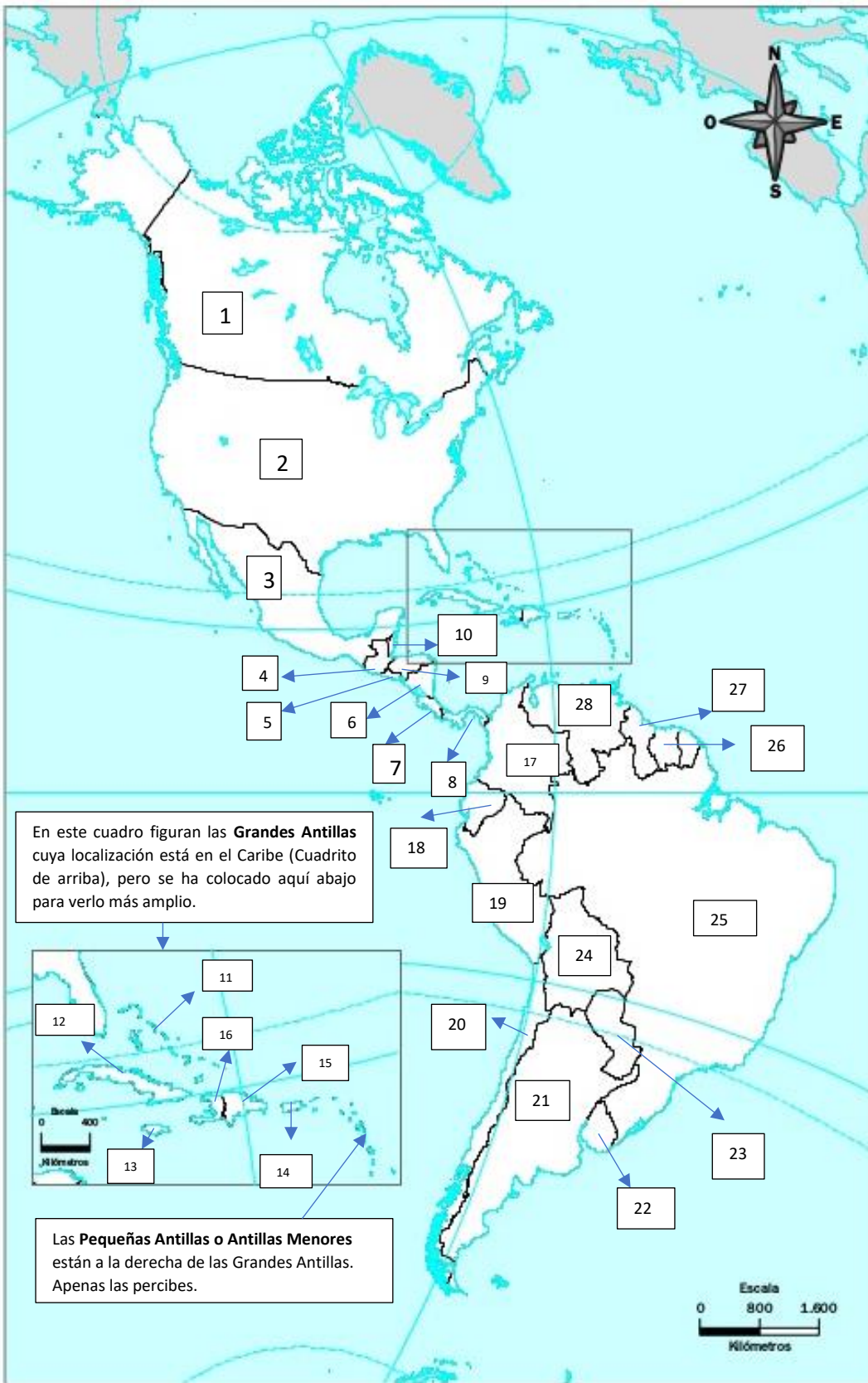


# MAPA POLÍTICO DEL CONTINENTE AMERICANO

1.- En este mapa aparecen cada uno de los países que integran el continente americano. Escribe a la derecha del mapa el nombre de cada uno de los países señalados (el primero ya lo tienes; continúa tú.) No olvides escribir cada uno con letra **mayúscula**.



## América del Norte

1. Canadá

2.

3.

## América central

4.

5.

6.

7.

8.

9.

10.

11.

12.

13.

14.

15.

16.

## América del sur (Sudamérica)

17.

18.

19.

20.

21.

22.

23.

24.

25.

26.

27.

28.

**PAISES Y CAPITALS DEL CONTINENTE AMERICANO**

2.- En este mapa volverás a escribir el nombre de los países (te servirá de repaso) y el de **sus capitales**. Faltan los países de las Pequeñas Antillas que son difíciles de percibir en el mapa.

<b>Número</b>	<b>PAÍS</b>	<b>CAPITAL</b>
1	Canadá	Ottawa
2		
3		
4		
5		
6		
7		
8		
9		
10		
11		
12		
13		
14		
15		
16		
17		
18		
19		
20		
21		
22		
23		
24		
25		
26		
27		
28		

## Las **GRANDES ANTILLAS** y las **PEQUEÑAS ANTILLAS**

En estos mapas aparecen las **Grandes Antillas (Antillas Mayores)** y las **Pequeñas Antillas (Antillas Menores)**.

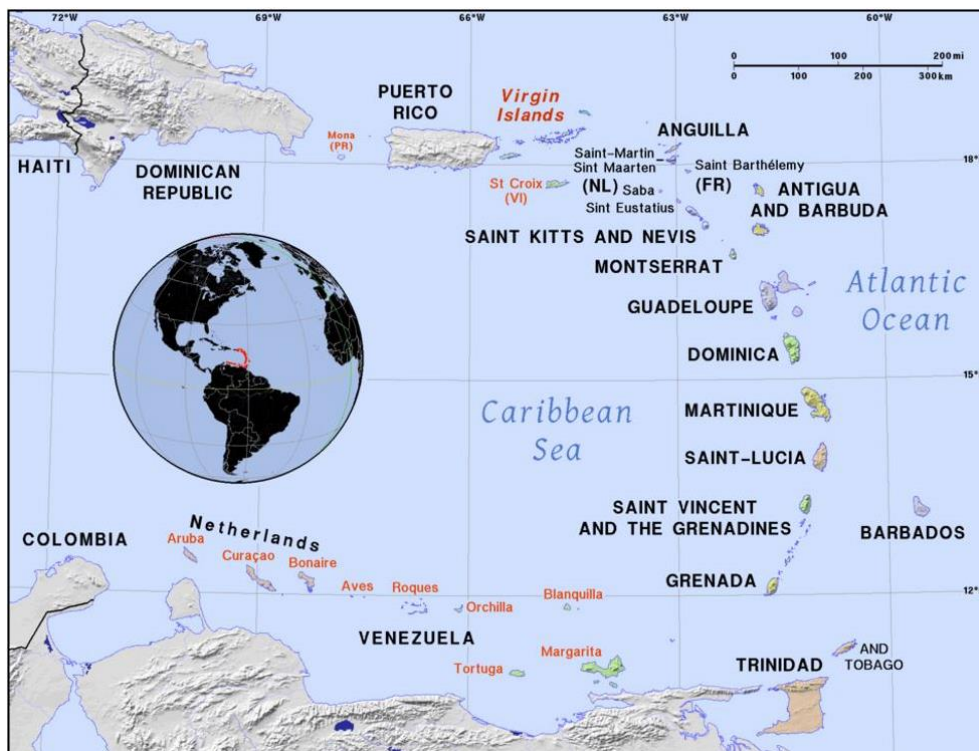
- Las **Antillas se dividen** en tres grandes grupos:

- Las **Bahamas** o Lucayas
- Las **Grandes Antillas** (en el centro)
- Las **Pequeñas Antillas** (al Sur).

\*Las **Grandes Antillas** están compuestas por las Islas de: Cuba, Jamaica, La Española (Haití y República Dominicana) y Puerto Rico .



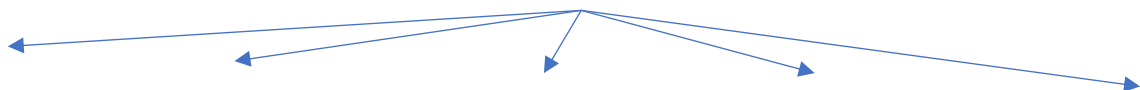
\*Las **Pequeñas Antillas** van desde Puerto Rico hasta la costa de Venezuela. Las componen multitud de islas aunque solo **ocho** de ellas son países independientes: Antigua y Barbuda, San Cristóbal y Nieves, Dominica, Santa Lucía, Barbados, San Vicente y las Granadinas, Granada, y Trinidad y Tobago.



3.- Escribe el nombre de las **Antillas Menores**:

- 
- 
- 
- 
- 
- 
- 

4.- Completa este esquema escribiendo el nombre de las **Grandes Antillas**:



5.- Diferencia entre estas islas cuáles pertenecen a las Grandes Antillas y cuáles a la Pequeñas Antillas. Para ello deberás **subrayar o colorear** aquellas pertenecientes a las **Grandes Antillas**:

“Santa Lucía – Barbados – Cuba – Jamaica – Granada – Puerto Rico – Dominica – Antigua y Barbuda – Haití”